

EXAME NACIONAL DO ENSINO SECUNDÁRIO
12.º Ano de Escolaridade (Decreto-Lei n.º 286/89, de 29 de Agosto)
Cursos Gerais e Cursos Tecnológicos – Agrupamentos 3 e 4

Duração da prova: 120 minutos
2005

1.ª FASE

PROVA ESCRITA
DE INTRODUÇÃO AO DESENVOLVIMENTO ECONÓMICO E SOCIAL

VERSÃO 1

Na sua folha de respostas, indique claramente a versão da prova.

A ausência desta indicação implicará a anulação de todo o GRUPO I.

A prova é constituída por **quatro** grupos de itens.

O **GRUPO I** é constituído por **20 itens de escolha múltipla**, cada um com 4 opções de resposta.

O **GRUPO II** é composto por **dois conjuntos de itens (1 e 2)**, sendo **ambos de resposta obrigatória**.

O **GRUPO III** é composto por **dois conjuntos de itens (1 e 2)**. O primeiro conjunto refere-se ao subtema «O papel das tecnologias no desenvolvimento das sociedades»; o segundo conjunto refere-se ao subtema «A defesa do ambiente e a utilização dos recursos». **Só pode responder aos itens de um dos conjuntos.**

O **GRUPO IV** é composto por **quatro conjuntos de itens (1, 2, 3 e 4)**. Cada um destes conjuntos refere-se a um dos cenários de futuro do tema III do programa, a saber: «No campo demográfico», «No campo económico», «No ordenamento do território» e «Nos modos de comportamento e nos estilos de vida». **Só pode responder aos itens de um dos conjuntos.**

Nos **GRUPOS III e IV**, caso responda a mais de um conjunto, **apenas serão classificados os itens relativos ao primeiro dos conjuntos pelo qual optou.**

I

Seleccione a única alínea que, em cada item, completa de forma correcta a afirmação inicial.

Na sua folha de respostas, indique claramente o **NÚMERO** do item e a **LETRA** da alínea pela qual optou.

Será atribuída a cotação zero aos itens em que apresente:

- mais do que uma opção (ainda que nelas esteja incluída a opção correcta);
- o número e/ou a letra ilegíveis.

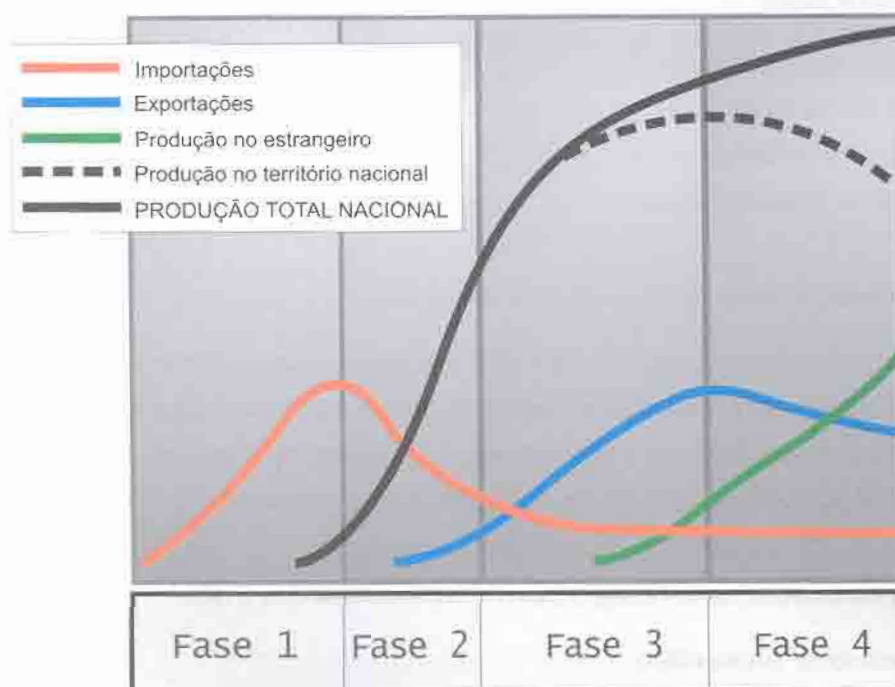
Em caso de engano, este deverá ser riscado e corrigido, à frente, de modo bem legível.

1. Os movimentos sociais podem ser...
 - A. ... agentes de mudança social.
 - B. ... níveis de mudança social.
 - C. ... factores de mudança social.
 - D. ... causas de mudança social.

2. O crescimento económico, numa sociedade, traduz-se...
 - A. ... no aumento do valor dos bens e serviços produzidos, num determinado intervalo de tempo.
 - B. ... na satisfação das necessidades básicas de toda a população, durante um ano.
 - C. ... na repartição equitativa da riqueza criada, num determinado período de tempo.
 - D. ... na diminuição, a longo prazo, das agressões ambientais de origem industrial.

3. O Índice de Desenvolvimento Humano (IDH) é um indicador que avalia...
 - A. ... o crescimento demográfico.
 - B. ... as reservas de recursos naturais.
 - C. ... algumas dimensões do progresso social.
 - D. ... o envelhecimento da população.

4. O bloqueio de Berlim, entre Junho de 1948 e Maio de 1949, resultou do antagonismo político vivido entre...
- ... os países da NATO e os do Pacto de Varsóvia.
 - ... a Alemanha Ocidental e a URSS.
 - ... a URSS e as potências ocidentais vencedoras da Segunda Guerra Mundial.
 - ... a Alemanha Ocidental e a Alemanha de Leste.
5. O Conselho de Segurança da ONU integra, como membros permanentes, para além dos EUA e da Federação Russa, a...
- ... França, o Japão e o Reino Unido.
 - ... Alemanha, a França e o Reino Unido.
 - ... China, a França e o Reino Unido.
 - ... Alemanha, a Itália e a França.
6. A figura 1, que esquematiza as fases do crescimento económico do Japão, evidencia que...



Fonte: Christian Bouvet (org.), *Géographie Terminales L, ES, S*, Hachette, Paris, 1998

Figura 1 – Representação esquemática das fases de crescimento económico do Japão

- ... as exportações têm vindo sempre a crescer ao longo das diferentes fases.
- ... a produção no estrangeiro acompanhou o ritmo de crescimento da produção total nacional.
- ... a evolução das produções «total nacional» e «em território nacional» é sempre idêntica.
- ... o nível das importações estabilizou na última das quatro fases consideradas.

7. A figura 1 evidencia que, nas várias fases do crescimento económico do Japão, a fase...
- A. ... 1 corresponde a um período de deslocalização industrial.
 - B. ... 2 corresponde a um período de substituição de importações.
 - C. ... 3 corresponde a um período de diminuição das exportações.
 - D. ... 4 corresponde a um período de crescente importação tecnológica.
8. Dois dos principais conflitos armados de âmbito regional registados no período da Guerra Fria desenrolaram-se...
- A. ... na Coreia e em Cuba.
 - B. ... em Cuba e no Vietname.
 - C. ... na Coreia e no Vietname.
 - D. ... no Vietname e na região do Golfo Pérsico.
9. A Ajuda Pública ao Desenvolvimento (APD) é predominantemente constituída por fundos...
- A. ... provenientes de fontes privadas.
 - B. ... de natureza multilateral.
 - C. ... provenientes de IDE de multinacionais.
 - D. ... resultantes de doações de ONG.
10. A Conferência de Bandung teve como principal objectivo...
- A. ... a integração dos PVD numa das esferas de influência das superpotências.
 - B. ... a cooperação militar dos PVD com a ex-URSS.
 - C. ... uma maior afirmação dos PVD no contexto das relações internacionais.
 - D. ... a cooperação militar dos PVD com os EUA.
11. A actuação do Movimento dos Países Não-Alinhados traduziu-se, entre outros aspectos,...
- A. ... na chamada de atenção do mundo para a necessidade de uma Nova Ordem Económica Internacional (NOEI).
 - B. ... na sistemática unidade de posições dos países membros em questões de política internacional.
 - C. ... na progressiva valorização dos termos de troca dos PVD.
 - D. ... no distanciamento dos países membros face à política de Blocos liderada pelas duas superpotências.

12. A estratégia de industrialização que mais êxito teve no desenvolvimento dos NPI baseou-se, fundamentalmente,...
- A. ... numa agricultura especulativa.
 - B. ... nas designadas indústrias industrializantes.
 - C. ... numa industrialização para substituição das importações.
 - D. ... numa industrialização para promoção das exportações.
13. O sucesso dos NPI Asiáticos deveu-se, principalmente, a uma aposta...
- A. ... em produções industriais a baixo custo.
 - B. ... em investimentos no sector militar.
 - C. ... na formação de uma mão-de-obra reivindicativa.
 - D. ... na exportação de produtos agrícolas.
14. A ASEAN é uma organização que inclui países...
- A. ... da América do Sul.
 - B. ... do Sudoeste da Ásia.
 - C. ... do Sudeste da Ásia.
 - D. ... da África, das Caraíbas e do Pacífico.
15. A expressão «trinta gloriosos» refere-se ao período de...
- A. ... expansão militar japonesa, na zona do Pacífico, no período entre as duas guerras mundiais.
 - B. ... grande crescimento económico no mundo ocidental, após a Segunda Guerra Mundial.
 - C. ... alastramento da influência comunista na Europa, no período da Guerra Fria.
 - D. ... surgimento de novos países independentes na Europa, a partir dos anos 70 do século XX.
16. A reorganização geopolítica ocorrida na Europa de Leste, no fim do século passado, contribuiu para...
- A. ... uma rápida difusão do modelo de economia de mercado, nos países em causa.
 - B. ... transformar esta região numa das principais áreas de captação de IDE, ao nível mundial.
 - C. ... uma rápida melhoria do nível de vida da população, nos países que se tornaram independentes.
 - D. ... reduzir a intensidade da emigração desses países para os países da União Europeia.

17. A União Económica e Monetária (UEM) foi instituída pelo Tratado de...
- A. ... Amesterdão.
 - B. ... Nice.
 - C. ... Roma.
 - D. ... Maastricht.
18. O cumprimento dos critérios de convergência adoptados pelos países da UE implica, entre outras medidas, um controlo da taxa de...
- A. ... desemprego.
 - B. ... inflação.
 - C. ... actividade.
 - D. ... escolarização.
19. A União Europeia Ocidental (UEO) é uma instituição que, nas últimas décadas, tem centrado a sua actuação na promoção...
- A. ... do desenvolvimento regional, no seio da UE.
 - B. ... da segurança e do desarmamento, à escala mundial.
 - C. ... da coesão social, nas regiões europeias mais carenciadas.
 - D. ... da segurança, no continente europeu.
20. A OMC é uma organização que visa, primordialmente,...
- A. ... a resolução de conflitos comerciais entre os países do G8.
 - B. ... a liberalização do comércio à escala global.
 - C. ... o estabelecimento de acordos comerciais entre os PVD.
 - D. ... a regulação dos preços do petróleo, à escala mundial.

II

Neste grupo, deve responder a **todos os conjuntos de itens** (1 e 2).

1. Leia o texto que se segue.

O novo século começou com uma declaração de solidariedade e uma determinação sem precedentes para libertar o mundo da pobreza. Em 2000, a Declaração do Milénio da ONU, adoptada na maior reunião de chefes de Estado de sempre, comprometeu países ricos e pobres a fazerem tudo o que puderem para erradicar a pobreza, promover a dignidade e a igualdade humanas e alcançar a paz, a democracia e a sustentabilidade ambiental. Os líderes mundiais prometeram cooperar para atingir metas concretas, em termos de redução da pobreza e do aumento do desenvolvimento, no máximo, até 2015.

PNUD, *Relatório do Desenvolvimento Humano 2003*, 2003 (adaptado)

1.1. Indique dois objectivos da criação da ONU.

1.2. Explique o conceito de desenvolvimento implícito no texto.

2. Analise os dados da tabela 1.

Tabela 1 – Taxas de Variação do PIB (em percentagem), entre 2000 e 2002, em diferentes áreas geográficas, consideradas desenvolvidas

Área Geográfica	Taxa de Variação do PIB (em percentagem)		
	2000	2001	2002
Área do Euro	3,5	1,5	0,8
EUA	3,8	0,3	2,4
Japão	2,8	0,4	0,3

Fonte: Banco de Portugal, *Relatório do Conselho de Administração 2002, 2003* (adaptado)

2.1. Indique dois dos três países que, no final de 2003, sendo membros da UE, não integravam a «Área do Euro».

2.2. Descreva pormenorizadamente a evolução do crescimento económico, entre 2000 e 2002, nas três áreas geográficas consideradas na tabela 1.

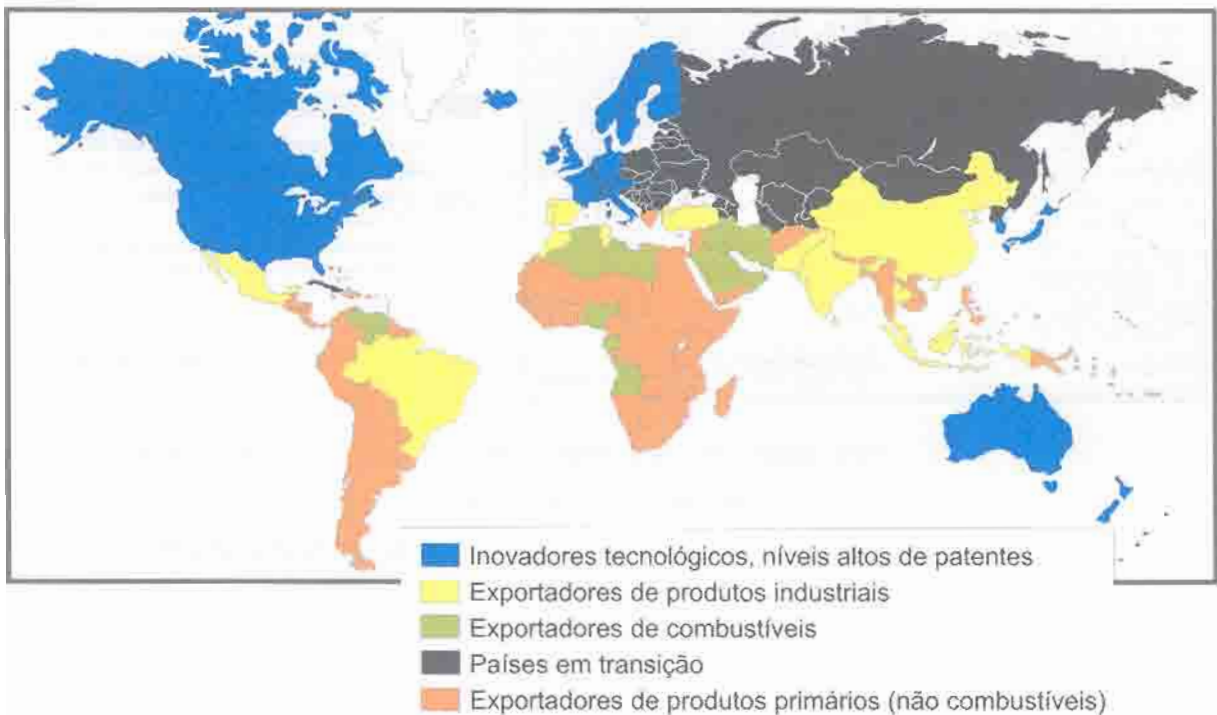
2.3. Explique a importância que os investimentos públicos podem assumir na promoção do crescimento económico e, indirectamente, na melhoria da qualidade de vida das populações.

III

Neste grupo, **responda apenas a um conjunto de itens (1 ou 2)**.
Não pode responder a itens de conjuntos diferentes.

O PAPEL DAS TECNOLOGIAS NO DESENVOLVIMENTO DAS SOCIEDADES

1. Observe a figura 2, que apresenta uma classificação dos países de acordo com uma caracterização económica realizada segundo critérios estabelecidos pelo Programa das Nações Unidas para o Desenvolvimento (PNUD).



Fonte: PNUD, *Relatório do Desenvolvimento Humano 2003*, 2003

Figura 2 – Classificação dos países (1995), segundo uma caracterização económica estabelecida pelo PNUD

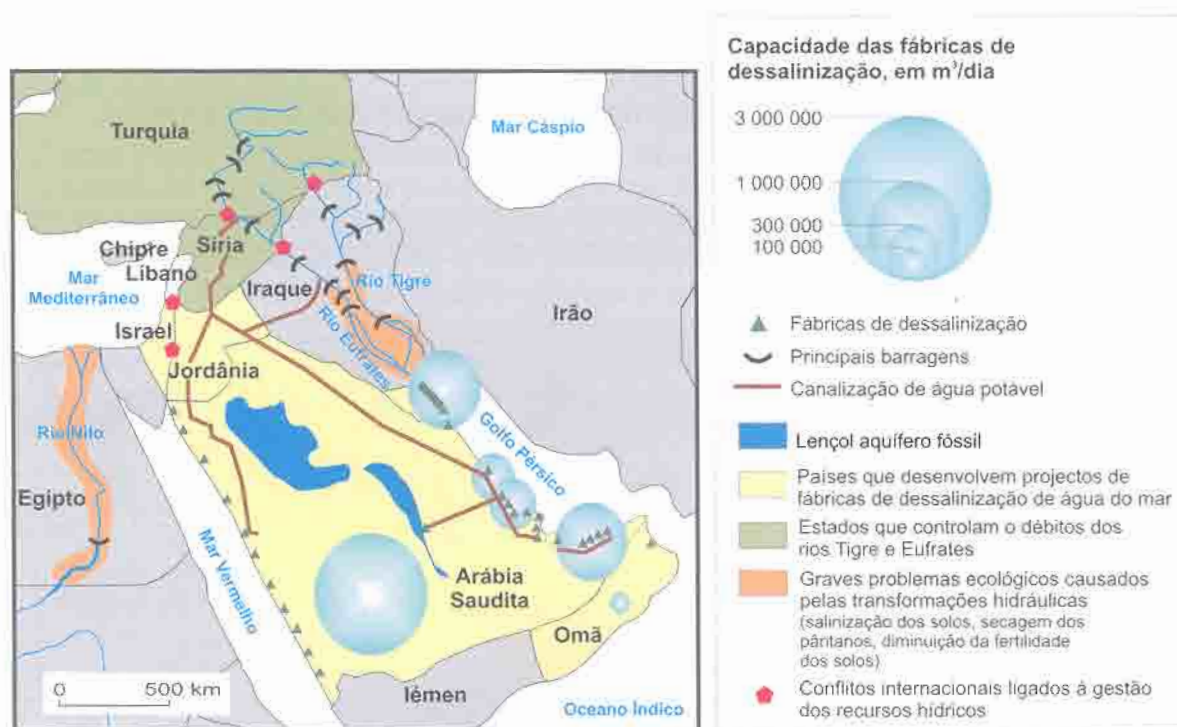
- 1.1. **Indique um** país asiático que tenha sido «importador de tecnologia» e que seja agora considerado, de acordo com os dados da figura 2, «inovador tecnológico».
- 1.2. **Explique** o papel da I&D (Investigação e Desenvolvimento) na estratégia de desenvolvimento adoptada pelos países classificados na figura 2 como «inovadores tecnológicos».
- 1.3. **Explique duas** consequências, sociais e/ou económicas, decorrentes da crescente utilização das novas tecnologias da informação e da comunicação.

V.S.F.F.

128/V1/9

A DEFESA DO AMBIENTE E A UTILIZAÇÃO DOS RECURSOS

2. A figura 3 mostra aspectos relativos à utilização da água na região do Médio Oriente.



Fonte: Masahiro Murakami, *Water for Peace in the Middle East: alternative strategies*, 1995

Figura 3 – Aspectos relativos à utilização da água na região do Médio Oriente

- 2.1. Refira um dos objectivos da construção de barragens.
- 2.2. Explique o elevado número de fábricas de dessalinização na Arábia Saudita, apesar do elevado custo que este método de obtenção de água potável acarreta.
- 2.3. Justifique o facto de a construção de barragens poder constituir um foco de tensão entre os países, conforme evidencia a figura 3.

IV

Neste grupo, deve responder **apenas a um conjunto de itens** (1 ou 2 ou 3 ou 4).
Não pode responder a itens de conjuntos diferentes.

CENÁRIOS DE FUTURO

NO CAMPO DEMOGRÁFICO

1. Leia o texto que se segue.

Em 2001, do total de população imigrante residente em Portugal, mais de 139 mil eram activos, o que corresponde a uma taxa de actividade (que, neste estudo, é considerada como o quociente entre a população activa e o total da população com 15 ou mais anos) de aproximadamente 73%, contrastando com os 57% observados para a população portuguesa. A força de trabalho imigrante representa cerca de 3% do total de mão-de-obra em Portugal.

Alexandra Manuela Gomes, Susana Baptista, «Imigração, Desenvolvimento Regional e Mercado de Trabalho – o caso Português», Revista Portuguesa de Estudos Regionais, n.º 1, 2003 (adaptado)

1.1. Explique a diferença de valores nas taxas de actividade da população portuguesa e da população imigrante.

1.2. Exponha, em termos prospectivos, uma consequência do aumento do número de imigrantes na economia portuguesa.

NO CAMPO ECONÓMICO

2. Leia o texto que se segue.

Que fenómeno é este, o da globalização, que suscita ao mesmo tempo tantas críticas e tantos elogios? Muitos aspectos da globalização foram bem recebidos em toda a parte. São os aspectos estritamente económicos e as instituições internacionais que ditam as suas regras que geram controvérsia. No entanto, várias outras instituições, que intervêm igualmente no sistema económico internacional, defendem pontos de vista muito diferentes dos do FMI, do Banco Mundial e da OMC. Por exemplo, o Banco Asiático de Desenvolvimento defende um «pluralismo concorrencial» que consiste em apresentar aos países em desenvolvimento estratégias de desenvolvimento alternativas, nomeadamente o «modelo asiático», em que o Estado intervém activamente na criação, definição e orientação dos mercados (como seja na promoção de novas tecnologias), assumindo as empresas uma responsabilidade considerável pelo bem-estar social dos seus empregados. Trata-se de um modelo completamente diferente do modelo americano defendido pelas instituições sedeadas em Washington.

Joseph Stiglitz, *Globalização – A Grande Desilusão*, 2002 (adaptado)

2.1. Explique em que consiste o fenómeno da globalização.

2.2. Exponha, em termos prospectivos, uma consequência da difusão do «modelo asiático», referido no texto, na evolução da mundialização económica actual.

V.S.F.F.

128/V1/11

NO ORDENAMENTO DO TERRITÓRIO

3. Leia o texto que se segue.

O termo concentração é o que de forma mais envolvente caracteriza a evolução da territorialidade de Portugal nesta última década. A população continuou, embora não de forma tão evidente quanto noutras décadas, a concentrar-se num número restrito de concelhos e, dentro destes, em núcleos de povoamento pontuais. A própria edificação da rede rodoviária e a reestruturação na rede ferroviária respondem, por um lado, a esta realidade, mas funcionam, por outro lado, como forças intensificadoras desta tendência de inquestionável significado geográfico.

João Luís Fernandes, «O Alentejo no contexto dos periferismos geoeconómicos do território nacional – a percepção de uma identidade», Inforgeo, n.ºs 12 e 13, Dezembro 1998 (adaptado)

3.1. **Explique** a afirmação sublinhada no texto.

3.2. **Exponha, em termos prospectivos, uma** consequência da tendência para a concentração tanto da população como das actividades na gestão do território à escala local.

NOS MODOS DE COMPORTAMENTO E NOS ESTILOS DE VIDA

4. Leia o texto que se segue.

O Fórum Social Mundial constituiu-se, em 2001, como um espaço aberto de encontro para a reflexão e o debate democrático de ideias, a formulação de propostas, a troca livre de experiências e a articulação de acções eficazes, por parte de entidades e movimentos da sociedade civil mundial que se opõem ao neoliberalismo dominante e que estão empenhados na construção de uma sociedade planetária orientada para uma relação fecunda entre os seres humanos e destes com a Terra. Mais do que exprimir-se nas muitas manifestações antiglobalização neoliberal, estes activistas defendem que é necessário inaugurar uma nova atitude, mais positiva, na busca concreta de resposta aos desafios da construção de «um outro mundo», mais justo e solidário, em que a economia esteja ao serviço do ser humano e não o inverso.

www.forumsocialportugues.org, 2003 (adaptado)

4.1. **Explique**, com base no texto, por que motivo o «Fórum Social Mundial» pode ser considerado um movimento social global.

4.2. **Exponha, em termos prospectivos, uma** consequência da afirmação de movimentos sociais globais, como o referido no texto, nos comportamentos e nos estilos de vida das populações dos países desenvolvidos.

FIM

COTAÇÕES

I

1. a 20. (20 × 3)	60 pontos
	<hr/>
	60 pontos (*)

II

1.		
1.1. (2 × 5)	10 pontos	
1.2.	15 pontos	
2.		
2.1. (2 × 5)	10 pontos	
2.2.	15 pontos	
2.3.	15 pontos	
		<hr/>
		65 pontos (*)

III

1.		
1.1.	10 pontos	
1.2.	15 pontos	
1.3.	20 pontos	
	ou	
2.		
2.1.	10 pontos	
2.2.	15 pontos	
2.3.	20 pontos	
		<hr/>
		45 pontos (**)

IV

1.		
1.1.	15 pontos	
1.2.	15 pontos	
	ou	
2.		
2.1.	15 pontos	
2.2.	15 pontos	
	ou	
3.		
3.1.	15 pontos	
3.2.	15 pontos	
	ou	
4.		
4.1.	15 pontos	
4.2.	15 pontos	
		<hr/>
		30 pontos (***)

TOTAL 200 pontos

(*) Nos GRUPOS I e II, deve responder a todos os itens.

(**) No GRUPO III, só pode responder a um conjunto de itens (1 ou 2).

(***) No GRUPO IV, só pode responder a um conjunto de itens (1 ou 2 ou 3 ou 4).